



P. 4-18

QUESTION

1

Pour répondre à la question, **lis** la table des matières et **consulte** les pages du portfolio.

COMPLÈTE le tableau ci-dessous, par **un** numéro de page pour chaque document recherché.

/2,5

		Numéro de page
Document...	... qui contient une carte géographique.	—
	... qui explique comment un animal sauvage est entré dans Bruxelles.	—
	... qui contient une expérience scientifique.	—
	... qui contient une comparaison de documents d'époques différentes.	—
	... qui explique le fonctionnement d'un outil de la vie courante.	—

LE MODE DE VIE DES GENS À DES ÉPOQUES DIFFÉRENTES



P. 14

QUESTION

2

Observe le document A de la page 14 du portfolio.

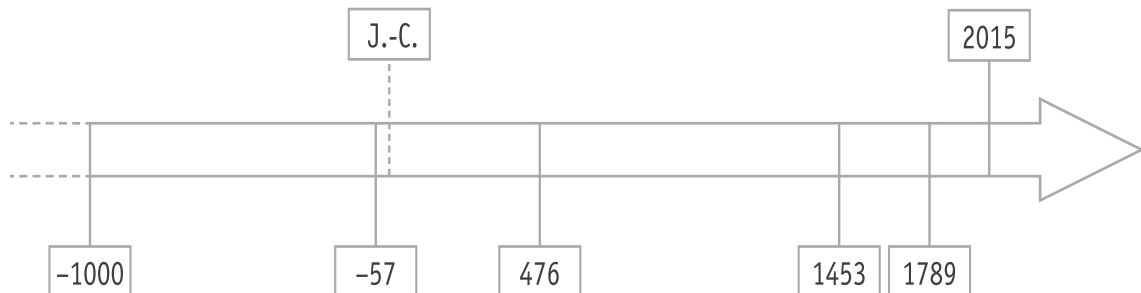
- a) **ÉCRIS** le nom de la **période historique conventionnelle** illustrée par le document A. /1

- b) **ÉCRIS deux** indices que tu vois sur le document A qui te permettent d'affirmer qu'il s'agit de cette période historique. /1

■ _____

■ _____

- c) Sur la ligne du temps, **COLORIE** toute la **durée** de la période historique conventionnelle correspondant au document A. /1





QUESTION

3

ÉCRIS un élément que tu vois sur le document A qui te permet de dire comment l'humain « produisait » une partie de sa nourriture à cette époque.

/1

QUESTION

4

En comparant les documents A et B :

a) **ÉCRIS** une **différence** que tu vois sur ces documents qui concerne la manière de cultiver le sol.

/1

b) **ÉCRIS** un élément **commun** à ces deux paysages, caractéristique du mode de vie des gens.

/1

c) **ÉCRIS deux** éléments du paysage que tu vois sur le document B qui n'apparaissent pas sur le document A.

/2

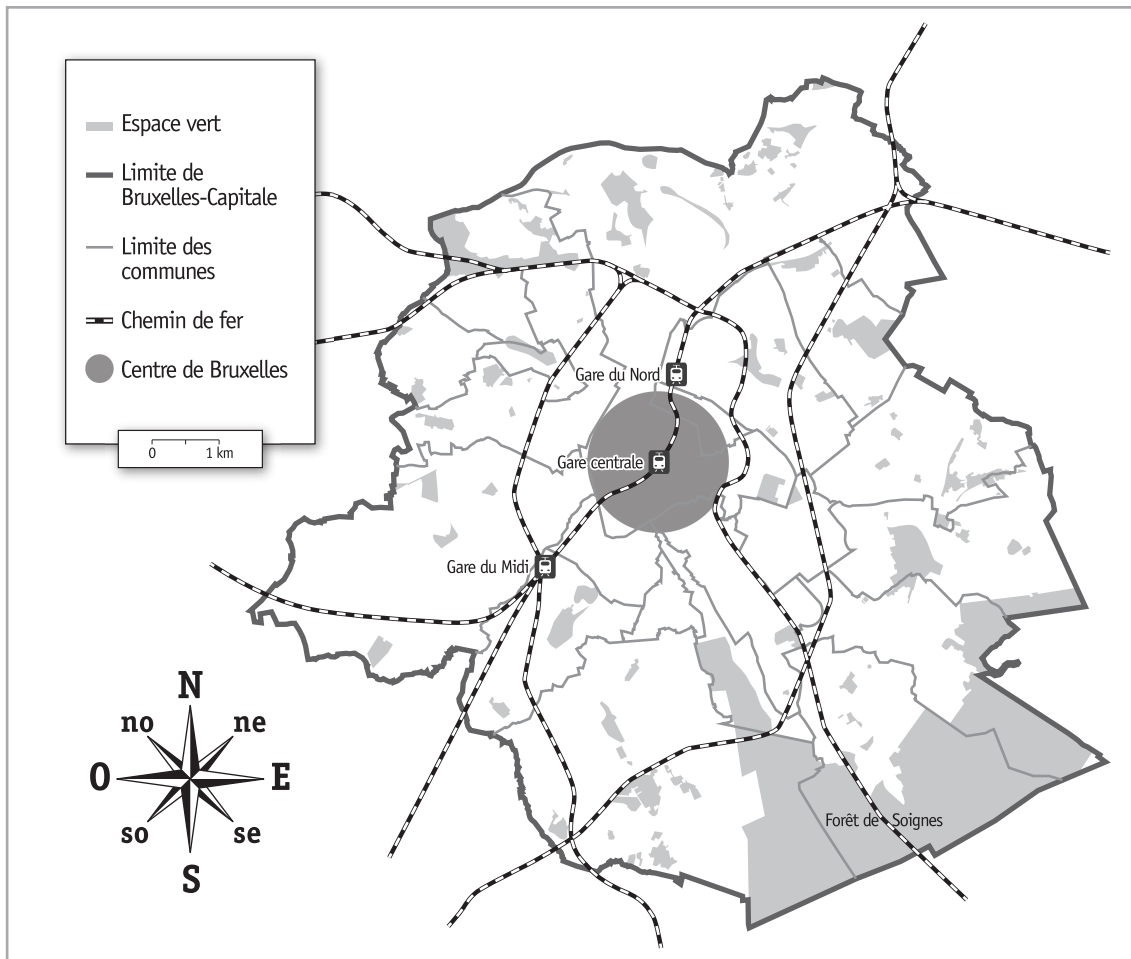
■ _____

■ _____



Relis le texte de la page 12 du portfolio.

- a) **TRACE** au crayon rouge, sur la carte ci-dessous, un itinéraire que les renards ont pu emprunter en suivant les talus le long des voies du chemin de fer, pour aller de la forêt de Soignes à la gare du Midi. /1



- b) **COCHE** l'affirmation correcte. /1

La forêt de Soignes se situe

- au nord du centre de Bruxelles.
- au sud du centre de Bruxelles.
- au nord-est du centre de Bruxelles.
- au sud-est du centre de Bruxelles.
- à l'ouest du centre de Bruxelles.

EMPIRE ROMAIN ET UNION EUROPÉENNE ACTUELLE

QUESTION

6

Voici une carte d'Europe sur laquelle on a colorié l'Empire romain (entre 50 et 100 après J.-C.).



■ Empire romain

ÉCRIS le nom de 5 pays de l'Union européenne actuelle que l'Empire romain recouvrait **entièrement**. /2,5

- _____
- _____
- _____
- _____
- _____

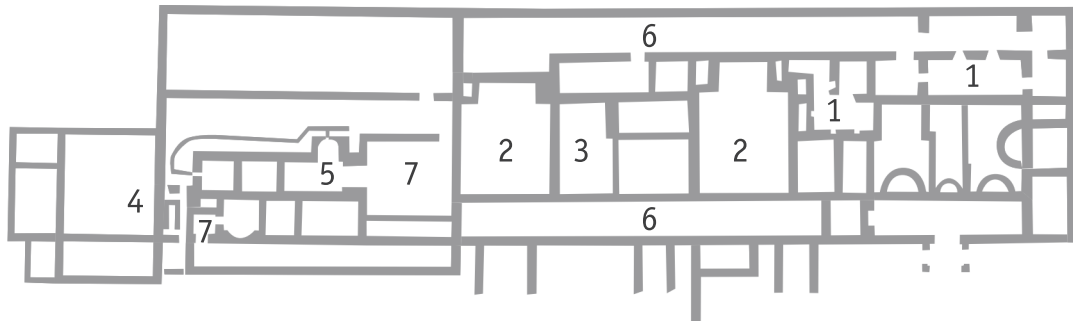
PLAN ET PHOTO DES VESTIGES D'UNE VILLA ROMAINE

QUESTION

7

Observe le plan et la photo aérienne des vestiges de la villa gallo-romaine de Malagne.

La villa gallo-romaine de Malagne
Bâtiment d'habitation



LÉGENDE

- 1 Caves
- 2 Salles de réception
- 3 Cuisine
- 4 Latrines (toilettes)
- 5 Thermes (bains)
- 6 Galerie
- 7 Salles de chauffe

RECOPIE dans les pastilles blanches de la photographie, les numéros correspondants du plan.

/1,5



Voici un tableau de synthèse sur le mode de vie des gens dans nos régions, à une époque déterminée.

a) Lis le tableau ci-dessous.

COMPLÈTE son titre.

/1

AU TEMPS _____		
Grandes questions sur l'humain		Les mots clés
Concernant le mode de vie	Comment se nourrit-il ?	élevage, agriculture, chasse, pêche...
	Comment se loge-t-il ?	villa romaine, maisons en torchis et en chaume...
	Comment s'habille-t-il ?	vêtements tissés, laine, braies...
Concernant les rapports sociaux	Quelle est son organisation sociale ?	noble, homme libre, esclave
	A-t-il des activités philosophiques et religieuses ?	polythéisme (plusieurs dieux)

b) Dans le tableau ci-dessous, **COCHE toutes** les propositions correctes.

/2

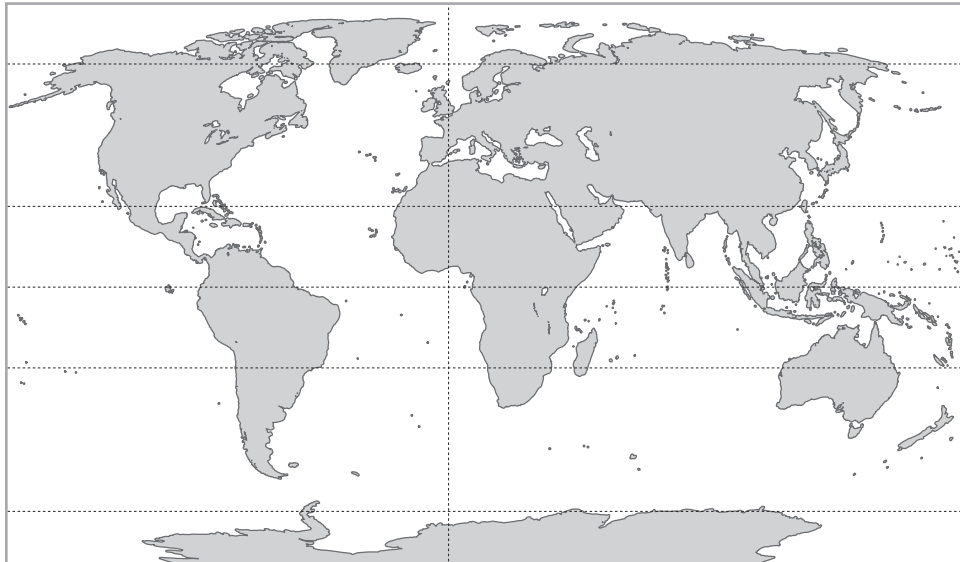
AU TEMPS DU MOYEN ÂGE, DANS NOS RÉGIONS		
Grandes questions sur l'humain		Les mots clés
Concernant le mode de vie	Comment se loge-t-il ?	<input type="checkbox"/> villa romaine <input type="checkbox"/> château fort <input type="checkbox"/> chaumière <input type="checkbox"/> immeuble en béton
	Comment s'habille-t-il ?	<input type="checkbox"/> vêtements en laine <input type="checkbox"/> sabots en bois <input type="checkbox"/> bottes en caoutchouc <input type="checkbox"/> cravate

COMPARAISON DE PLANISPHÈRES : EN 2016 ET AU 15^e SIÈCLE

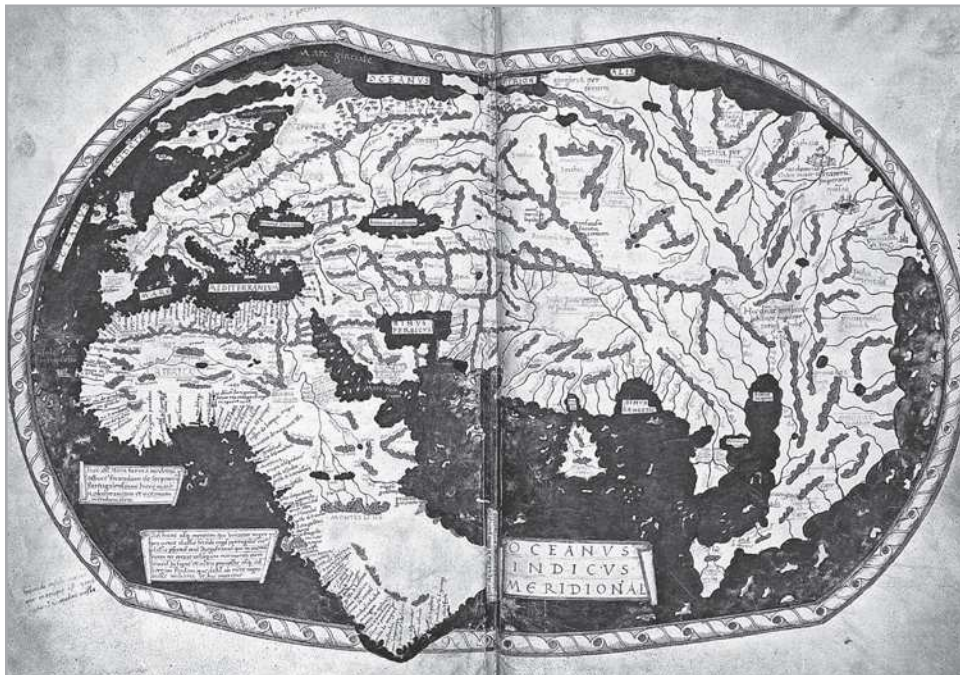
QUESTION

9

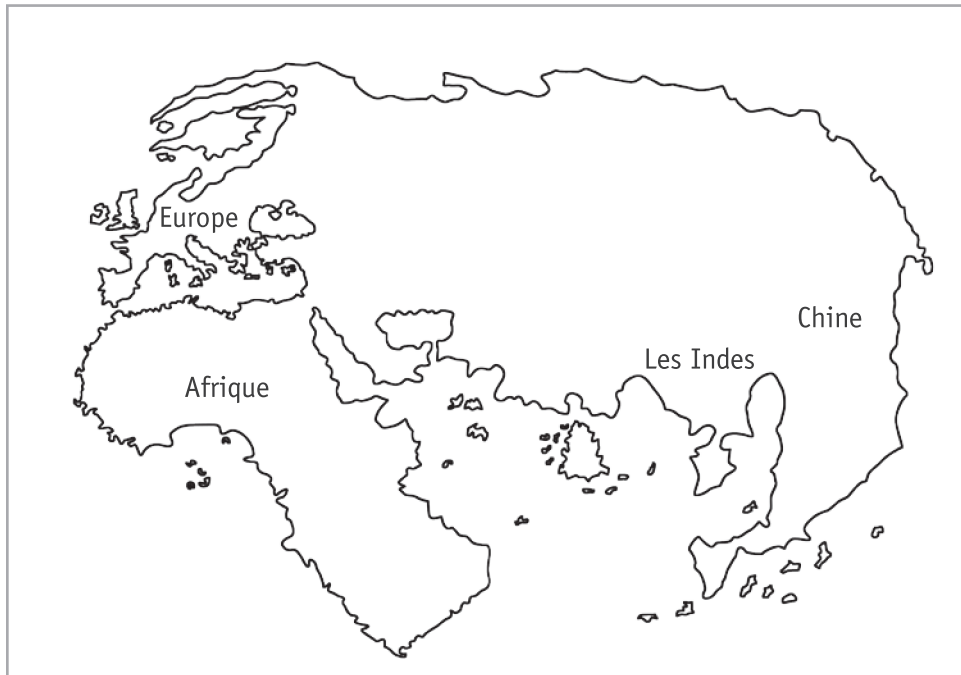
Observe les documents suivants.



Planisphère
de 2016



Planisphère
de Martellus,
au 15^e siècle
(1490)
avant les
découvertes
de Christophe
Colomb



Représentation
du planisphère
de Martellus

Certains continents n'apparaissent pas sur la représentation de 1490.

ÉCRIS-en un.

/1

REPRÉSENTATIONS D'HIER ET D'AUJOURD'HUI

QUESTION

10

Observe les documents suivants.




Photo aérienne 21^e siècle


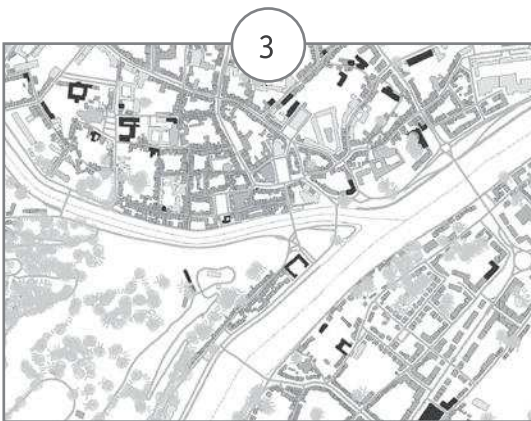



Photo aérienne 21^e siècle



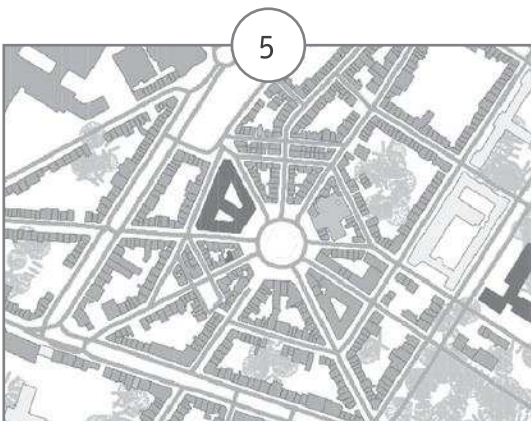
Carte 21^e siècle

SPW - Direction de la Géométrie - 2016



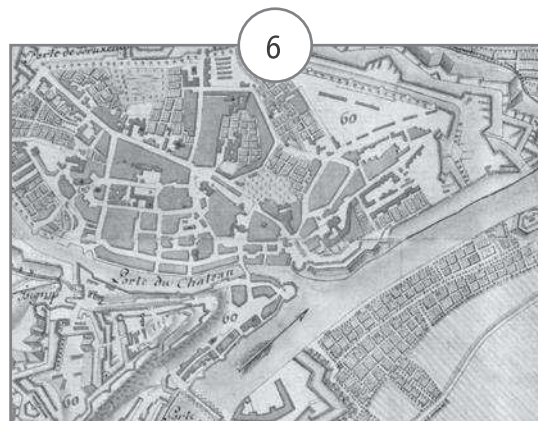
Carte 17^e siècle

Bibliothèque royale de Belgique



Carte 21^e siècle

SPW - Direction de la Géométrie - 2016



Carte 17^e siècle

Bibliothèque royale de Belgique

ÉCRIS le numéro de chaque document dans la case qui convient.

/4

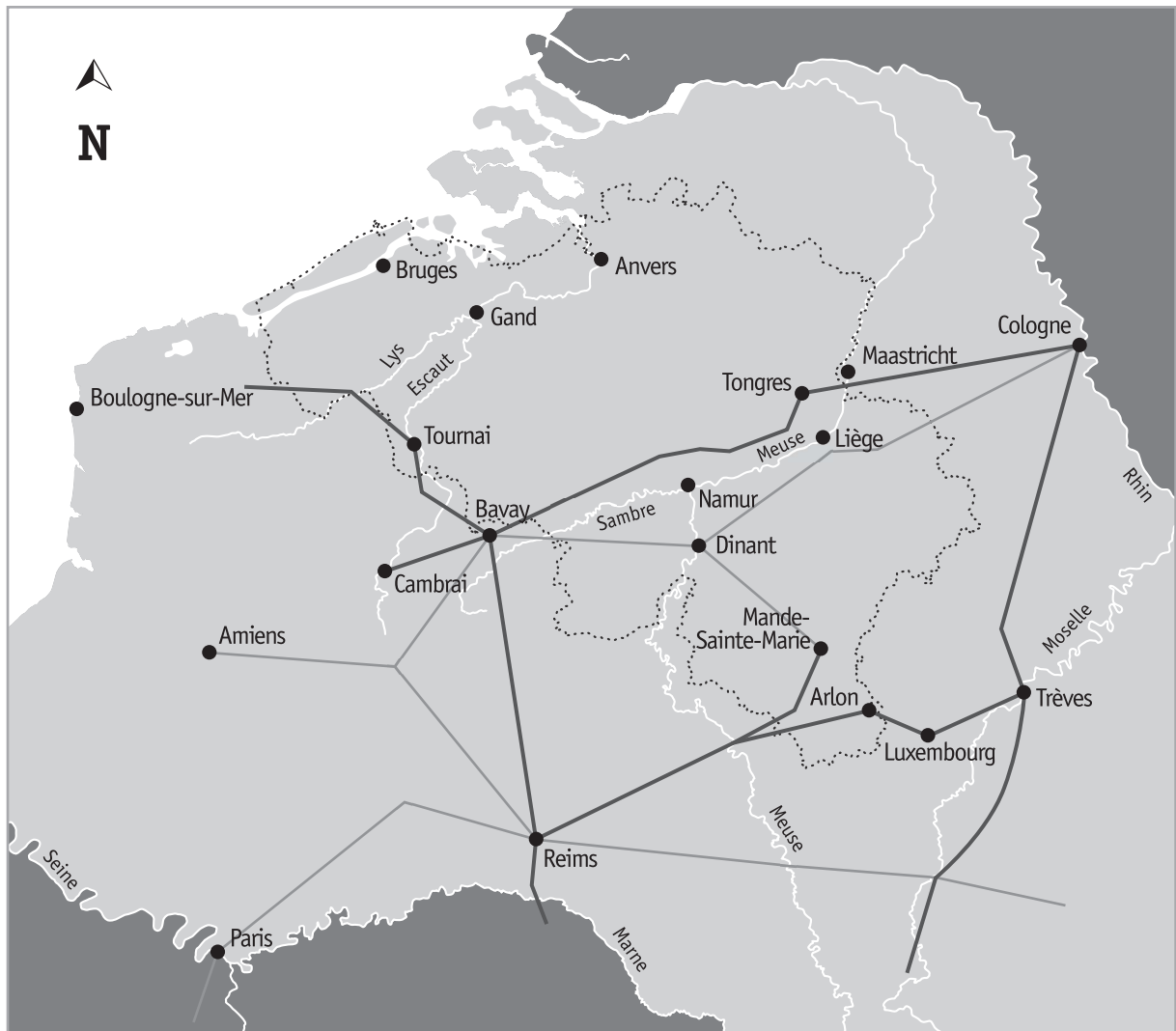
	Charleroi	Namur
Photo aérienne de la ville EXEMPLE	1	2
Carte historique de la ville		
Carte actuelle de la ville		

LA « GAULE BELGIQUE » À L'ÉPOQUE ROMAINE

QUESTION

11

Observe cette carte de la « Gaule Belgique » à l'époque romaine.



- Grande chaussée romaine
- Voie romaine secondaire
- Frontières de la Belgique actuelle



a) **REPASSE** en rouge le contour de la Belgique actuelle. /1

b) **REPASSE** en bleu **tout** le cours de la Meuse **visible** sur la carte. /2

c) Une voie romaine reliait Cambrai à Cologne.

Dans quels pays ces deux villes se situent-elles aujourd'hui ?

COMPLÈTE. /1

■ Cambrai se situe en _____

■ Cologne se situe en _____

d) Observe la carte de la « Gaule Belgique » ci-contre.

Une grande voie romaine reliait les villes de Reims et Trèves.

COMPLÈTE les phrases suivantes. /2

■ Cette voie passait par une ville belge actuelle :

■ Aujourd'hui, cette ville se situe dans la province de :

e) La voie secondaire « Bavay — Mande-Sainte-Marie » passait par une ville située sur la Meuse.

ÉCRIS le nom de cette ville. /1


■ _____

L'HYPOCAUSTE

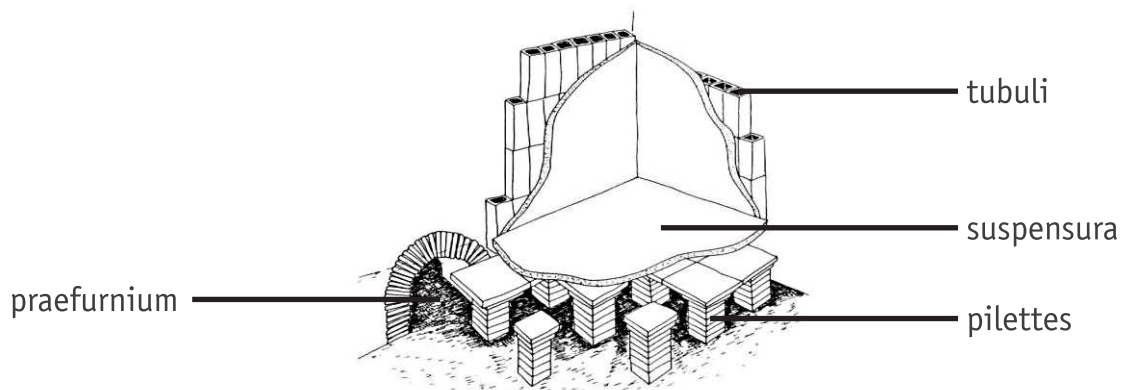
QUESTION

12


Observe les schémas de l'hypocauste ci-dessous :



L'hypocauste est un système de « chauffage central » utilisé par les Romains. Il permettait de chauffer les bains et les maisons grâce à la chaleur d'un feu. La fumée chaude passait sous le sol et dans les murs creux.



Compare la photo des vestiges d'un hypocauste avec ces deux schémas.



COMPLÈTE chaque étiquette par la lettre qui convient (A-B-C-D).

/2

<input type="radio"/>	tubuli
<input type="radio"/>	pilettes
<input type="radio"/>	suspensura
<input type="radio"/>	praefurnium

OBSERVATION D'UN PAYSAGE

QUESTION

13

arrière-plan

avant-plan



a) **COCHE** l'affirmation qui correspond au paysage ci-dessus.

/1

Ce paysage est

industriel.

rural.

urbain.

b) **ENTOURE** les éléments du tableau qui conviennent pour caractériser ce paysage. /2

À l'avant-plan, tu vois...	À l'arrière-plan, tu vois...
une forêt	une forêt
un désert	un désert
une montagne	une montagne
une mer	une mer
une prairie	une prairie

c) Des traces de l'activité humaine sont visibles **sur cette photographie de paysage**.

ÉCRIS deux éléments qui le montrent.

/2

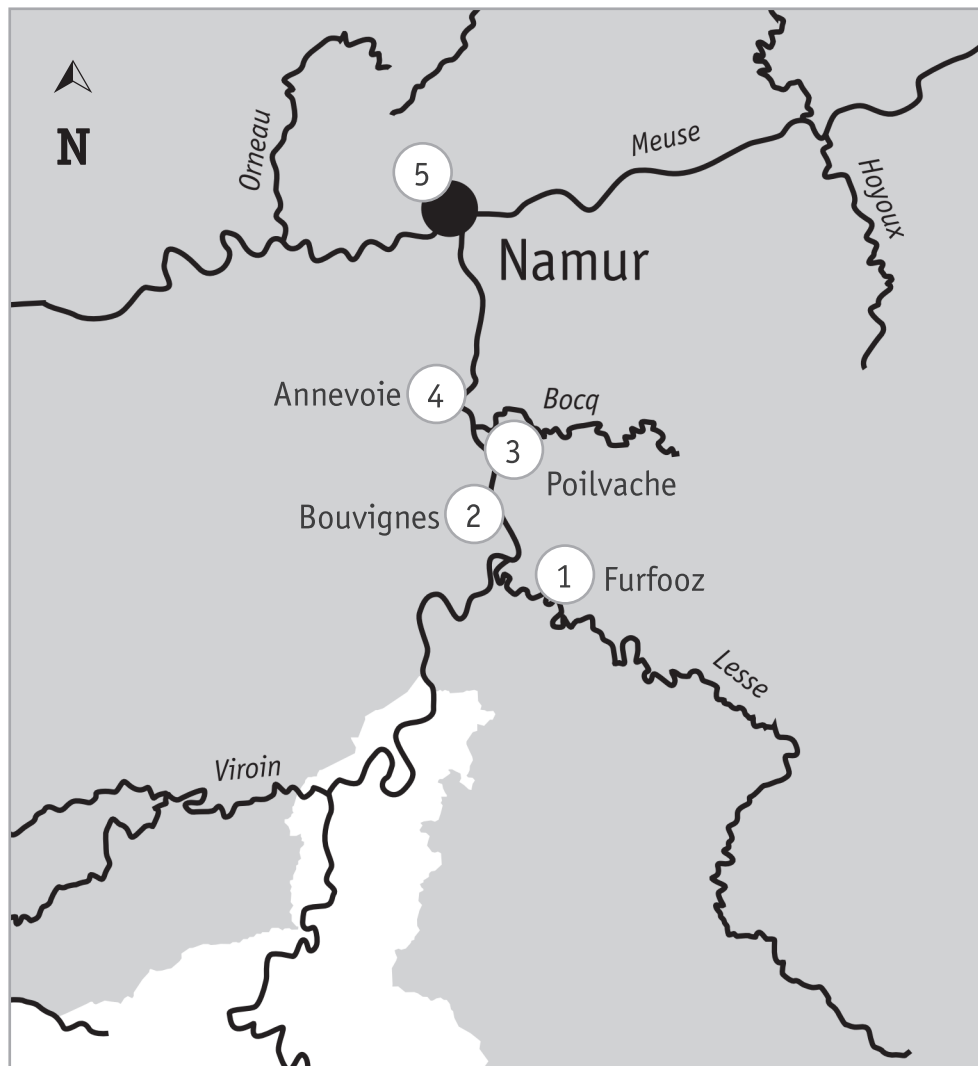
- _____
- _____

SITES TOURISTIQUES ET LIGNES DU TEMPS

QUESTION

14

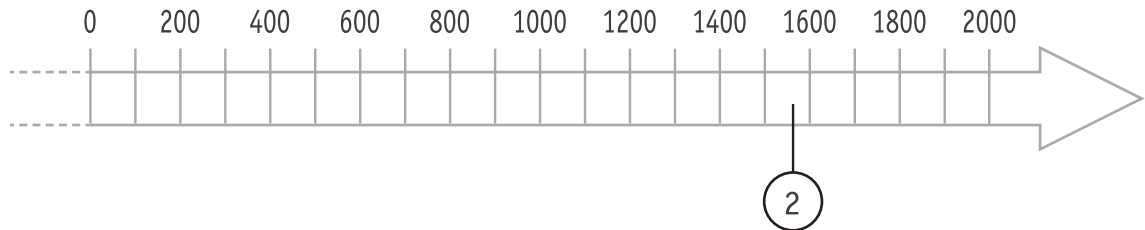
Extrait d'une carte touristique de la vallée de la Meuse.



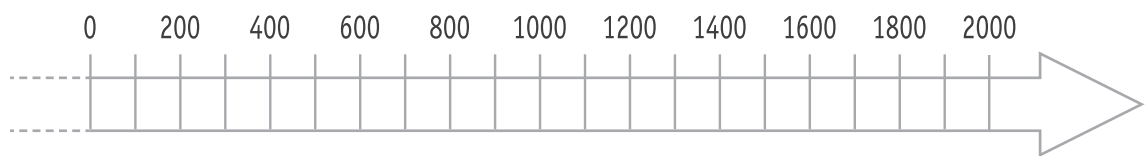
- ① Camp romain de Furfooz, construit vers 280
- ② Maison espagnole de Bouvignes, début de sa construction en 1568
- ③ Forteresse médiévale de Poilvache, utilisée de 1228 à 1430
- ④ Jardins d'Annevoie, conçus au 18^e siècle
- ⑤ Citadelle de Namur, premières fortifications construites vers 850

- a) Sur la ligne du temps, **ÉCRIS** les numéros **1 ET 5** correspondant aux sites touristiques repris sur la carte. /2

Un exemple t'est donné.



- b) Sur la ligne du temps, **COLORIE** la période pendant laquelle la forteresse de Poilvache (3) a été utilisée. /1



- c) **COCHE** la réponse correcte. /0,5

Les Jardins d'Annevoie ont été conçus :

- entre 1699 et 1799.
- entre 1701 et 1800.
- entre 1801 et 1900.

COMPARAISON DE DOCUMENTS

UNE PLAGE D'HAÏTI

À DEUX ÉPOQUES DIFFÉRENTES

QUESTION

15

Observe le document A de la page 17 du portfolio.

a) **COCHE** les propositions correctes dans le tableau suivant.

/3

Le document A est ...	<input type="checkbox"/> un document historique.
	<input type="checkbox"/> un document actuel.
	<input type="checkbox"/> un écrit.
	<input type="checkbox"/> une photographie.
	<input type="checkbox"/> une gravure.
	<input type="checkbox"/> une peinture.
	<input type="checkbox"/> une sculpture.
	<input type="checkbox"/> un document créé par quelqu'un qui a vécu la scène.
	<input type="checkbox"/> un document créé par quelqu'un qui n'a pas vécu la scène.

b) Compare les documents A et B de la page 17 du portfolio.

COMPLÈTE chaque case du tableau ci-dessous, par **deux** éléments que tu **vois** sur ces documents. /4

	Document A	Document B
Deux éléments naturels du paysage	<ul style="list-style-type: none">■ _____■ _____	<ul style="list-style-type: none">■ _____■ _____
Deux éléments apportés par l'humain	<ul style="list-style-type: none">■ _____■ _____	<ul style="list-style-type: none">■ _____■ _____

c) Christophe Colomb s'est rendu en Amérique en 1492.


ENTOURE le(s) personnage(s) ci-dessous qui a (ont) vécu à la même époque.

/1



Marco Polo

Marchand et explorateur vénitien
13^e et 14^e siècles




Vasco de Gama

Navigateur et explorateur portugais
15^e siècle



Roald Amundsen

Navigateur et explorateur norvégien
20^e siècle



Francis Drake

Navigateur et explorateur anglais
17^e siècle